

SEMANA del 25-29 de mayo 2020.

COPIA LOS DIBUJOS DE CADA UNA DE LAS ACTIVIDADES; ESCRIBE SU FÓRMULA Y CALCULA LO QUE SE PIDE

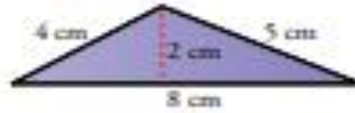
Áreas y perímetros de figuras sencillas

Halla el área y el perímetro de cada una de las figuras coloreadas en los siguientes ejercicios:

1. a)



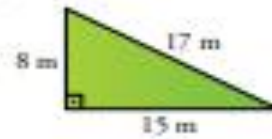
b)



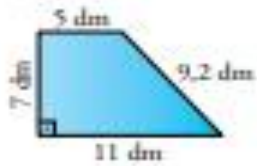
2. a)



b)



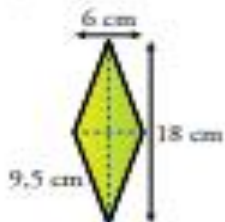
3. a)



b)



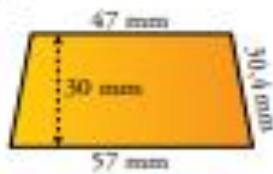
4. a)



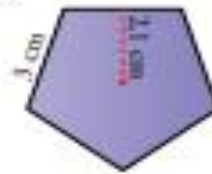
b)



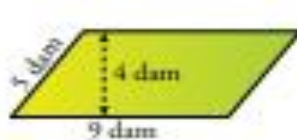
5. a)



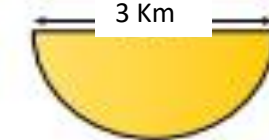
b)



6. a)



b)



7. a)

