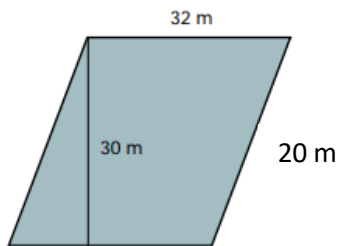


NOMBRE: _____

4/06/2020

Calcula el área y el perímetro de éstas figuras

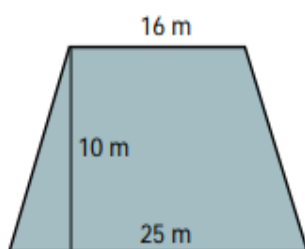
1-



2- Calcula el perímetro y el área de un rombo cuyo lado mide 10 cm y la diagonal mayor 16 cm.
Dibuja la figura

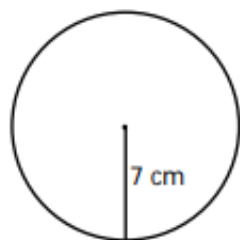
3-Halla el área y el perímetro de un trapecio de base mayor 4 cm, base menor 2,4 cm y lado 2 cm. **Dibuja la figura.**

4-



SÓLO ÁREA

5-



6-

